

SITUATION PROFESSIONNELLE 21 : Travail du sol mécanisé

Séance n°2: TD 211 Les pictogrammes

CAP Agricole




Objectif : Être capable d'identifier les pictogrammes.

MA


Objectif : Être capable d'identifier les pictogrammes

Consigne : A partir des documents ressource/erea
Perpignan/ENT/Mes portails/académie de
Montpellier/Moodle/Contexte 2/Situation 21.


Répondez aux questions. (attention il peut y avoir plusieurs bonne réponse)

<p><u>1)Quelle date réglemente l'arrêté sur les panneaux ? :</u></p>	
<p><u>2) Combien de forme avons-nous dans les pictogrammes ?</u></p> 	
<p><u>3) Combien de couleur, cite-les</u></p>	
<p><u>4) Identifie ce symbole :</u></p> 	
<p><u>5) Identifie ce symbole :</u></p> 	

6) Identifie ce symbole :



7) Identifie ce symbole :



8) Identifie ce symbole :



9) Identifie ce symbole :



10) Identifie ce symbole :



11) Est-ce que l'employeur doit obligatoirement afficher une signalétique pour les machines ?

Si vous avez terminé avant les autres, vous pouvez réaliser le test 211.

A retenir :



SITUATION PROFESSIONNELLE 21 : Travail du sol mécanisé	
Séance n°2: TD 211 Les pictogrammes	CAP Agricole
Objectif : Être capable d'identifier les pictogrammes.	MA